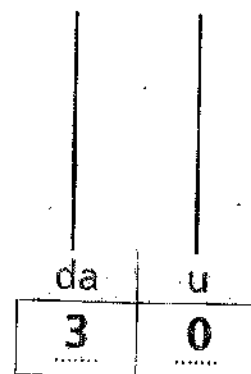

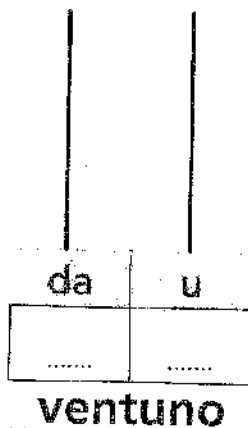



I NUMERI DA 20 A 30

1 Raggruppa per 10. Registra il numero e rappresenta sull'abaco.



2 Completa la linea dei numeri da 20 a 30.



3 Scrivi i numeri in cifre come nell'esempio.

ventuno 21
 ventisette
 venti
 ventisei

ventotto
 ventidue
 ventiquattro
 ventinove

4 Scrivi i numeri in lettere come nell'esempio.

29 ventinove
 25
 24

20
 23
 30

5 Scomponi come nell'esempio.

21 = 2 da 1 u 27 = 28 =
 29 = 25 = 22 =

2/

MATEMATICA A GONFIE VELE



✎ Scomponi i numeri come nell'esempio

21 → *ventuno* → *venti e uno* → 20 e 1 → 2 da e 1 u

- 22 → _____ → _____ *e* _____ → _____ e _____ → _____ da e _____ u
- 23 → _____ → _____ *e* _____ → _____ e _____ → _____ da e _____ u
- 24 → _____ → _____ *e* _____ → _____ e _____ → _____ da e _____ u
- 25 → _____ → _____ *e* _____ → _____ e _____ → _____ da e _____ u
- 26 → _____ → _____ *e* _____ → _____ e _____ → _____ da e _____ u
- 27 → _____ → _____ *e* _____ → _____ e _____ → _____ da e _____ u
- 28 → _____ → _____ *e* _____ → _____ e _____ → _____ da e _____ u
- 29 → _____ → _____ *e* _____ → _____ e _____ → _____ da e _____ u

✎ Scrivi il risultato in cifra, come l'esempio.

due decine + tre unità = 23

due decine - quattro unità = 16

due decine + otto unità = _____

due decine - tre unità = _____

due decine + sei unità = _____

due decine - tre unità = _____

una decina + cinque unità = _____

due decine - una decina = _____

due decine + una decina = _____

ventisei unità - cinque unità = _____

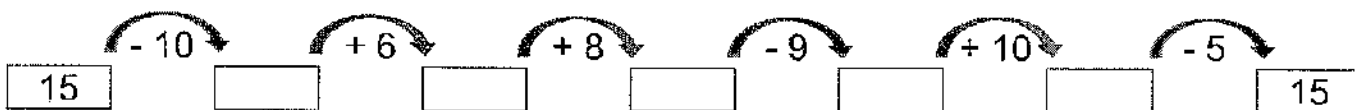
quattro unità + una decina = _____

ventotto unità - tre unità = _____

sette unità + otto unità = _____

ventidue unità - sette unità = _____

✎ Risolvi le catene di operazioni.

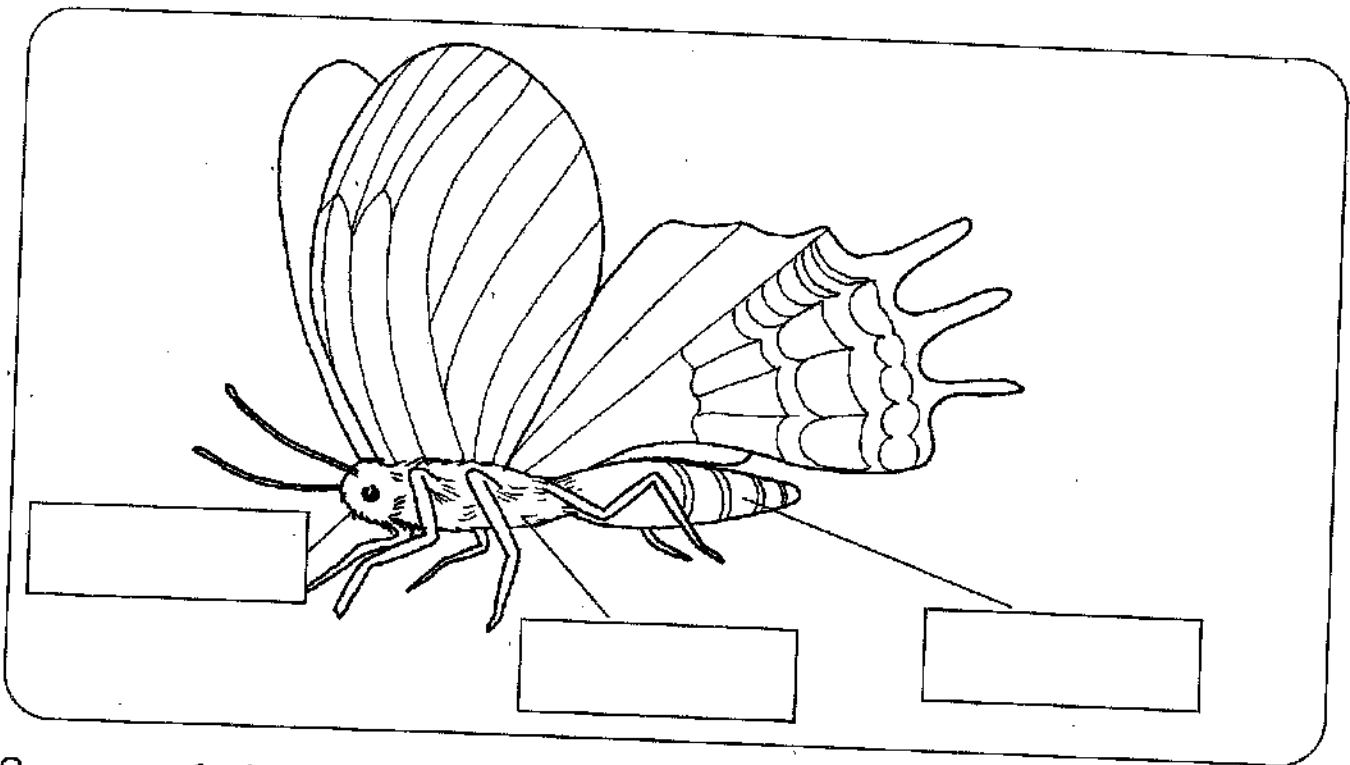


1

SCIENZE

LA FARFALLA


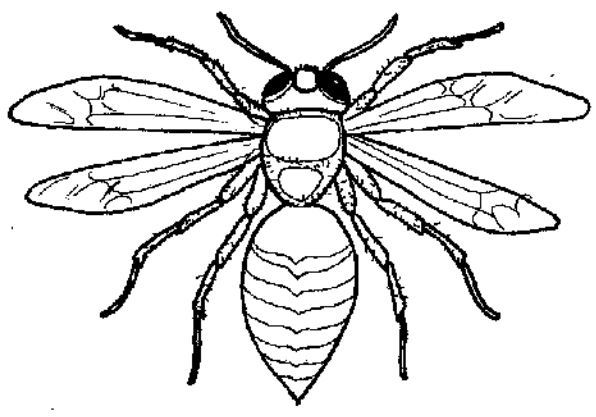
COMPLETA SCRIVENDO LE PAROLE : **TESTA**, **TORACE**, **ADDOME**, **ANTENNE**.



Sono una farfalla. Sulla mia **testa** ci sono gli occhi e le antenne. Le ali e le sei zampe sono attaccate al **torace**. Anche l'**addome** è collegato al torace.

RICOPIA IL DISEGNO DELLA VESPA E COLORA.

Sono una **vespa**. Il mio corpo è formato dalla **testa**, dal **torace** e dall'**addome**.



COMPLETA SCRIVENDO AL POSTO GIUSTO: QUATTRO, SEI, DUE.

Ho.....zampe. Hoali. Hoantenne.

IL PAIO

3



Il paio è formato da 2 cose uguali.

MEMO



1 Disegna.

1 paio di guanti

1 paio di pattini

2 paia di stivali

2 paia di orecchini

3 paia di ciabatte

3 paia di sci

2 Disegna e rispondi.

2 paia di scarpe

Quante scarpe sono?

4 paia di calzini

Quanti calzini sono?



Scrivi nella casella giusta i risultati delle operazioni

$\curvearrowright +$

	3	4	5	6
7				
8				
9				
10				

$\curvearrowright -$

	0	1	2	3
8				
7				
6				
5				

$\curvearrowright +$

	7	8	9	10
6				
2				
3				
5				

$\curvearrowright -$

	6	7	8	9
13				
12				
10				
9				

$\curvearrowright +$

	1	0	2	3
14				
15				
13				
12				

$\curvearrowright -$

	4	5	6	7
15				
16				
17				
18				

$\curvearrowright +$

	10	11	12	13
7				
6				
5				
4				

$\curvearrowright -$

	9	8	7	6
20				
19				
18				
17				

$\curvearrowright +$

	0	2	5	6
7				
8				
9				
10				

$\curvearrowright -$

	7	2	9	4
5				
16				
7				
18				

$\curvearrowright -$

	1	0	5	9
12				
4				
6				
13				

$\curvearrowright -$


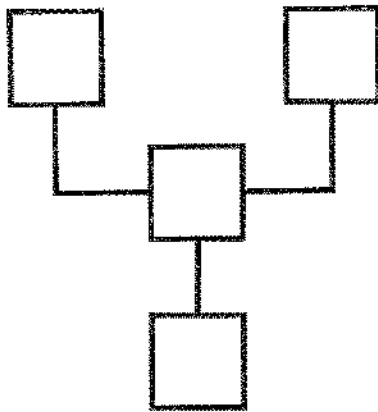
	3	6	0	10
2				
14				
6				
11				

PROBLEMI IN CARTOLERIA

1 SOTTOLINEA IN ROSSO LA DOMANDA E COMPLETA.

• Valentina va in cartoleria con la mamma e compra 18 quaderni rossi e 3 blu.

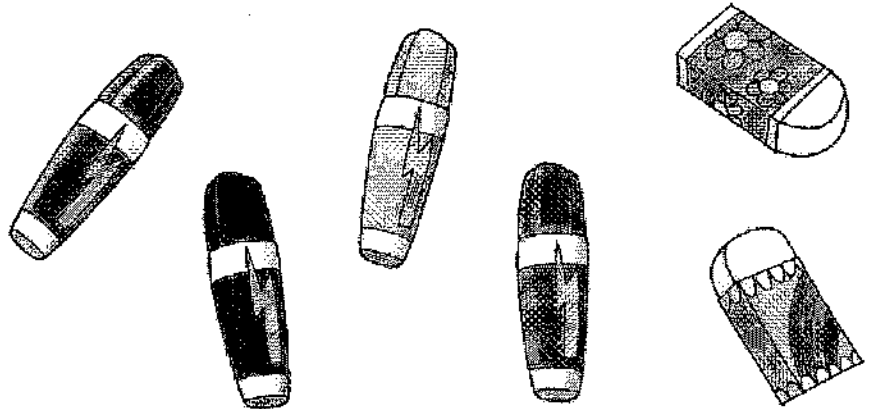
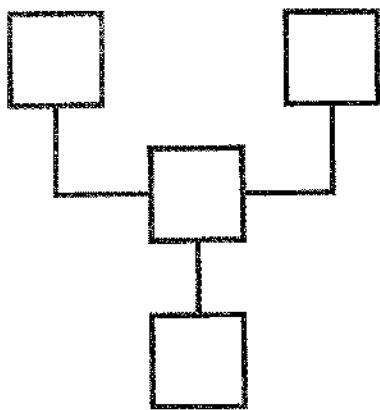
Quanti sono i quaderni comprati da Valentina?



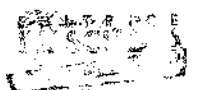
I quaderni comprati sono

• Il giorno dopo Valentina ritorna in cartoleria e compra 14 evidenziatori colorati e 2 gomme.

Quanti oggetti ha comprato?





Valentina ha comprato oggetti.



6/

Siamo alla fine! Esercizi di MATEMATICA a Maggio - 2 -


 Copia il problema e risolvi sul quaderno con il disegno, l'operazione e il diagramma a blocchi. Infine rispondi.

Problema: **le mosche**


In classe c'erano ~~22~~ mosche affamate; 8 si posano su una mela lasciata a metà sul banco di Ilaria e cominciano a mangiarla.

<<Guardate quelle sciocche, che per giocare a mosca cieca restano a pancia vuota!>> esclamano vedendo le altre mosche che volano qua e là.

Quante mosche sono rimaste a svolazzare?

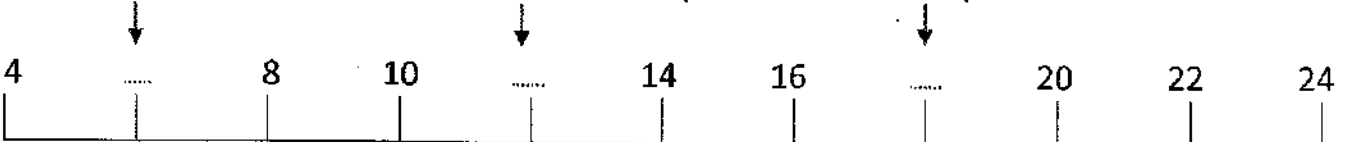
 Riscrivi i numeri in ordine **crescente**.


8	15	3	4	6	18	1	0	13

 Riscrivi i numeri in ordine **decrescente**.


8	13	20	6	5	9	15	12	2

 Osserva la retta dei numeri **a salti** e scrivi quelli che mancano, indicati dalle frecce.



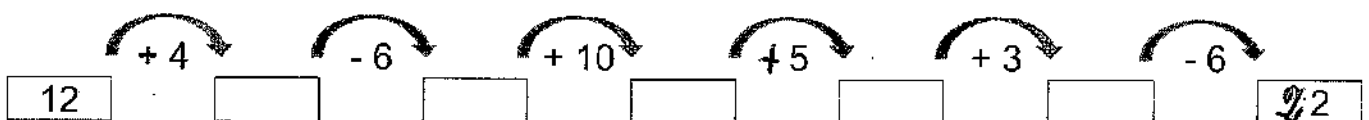
 Confronta le coppie di numeri espressi in operazione usando i simboli $>$, $<$ e $=$.

$6 + 4$ $10 - 5$
 $12 - 3$ $4 + 4$
 $8 + 4$ $20 - 5$
 $13 - 7$ $5 + 4$

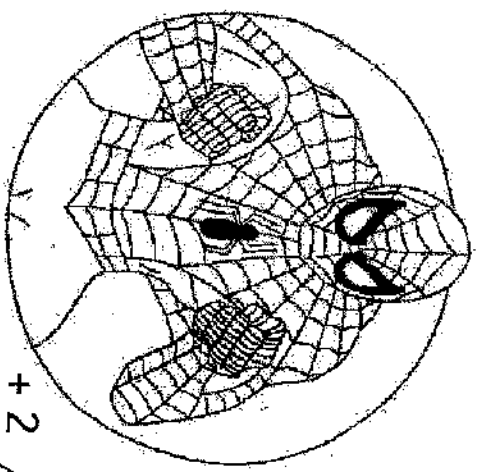
 Scrivi i numeri che corrispondono a queste decine e unità. Attento alla marca!

u 7 da 1 \rightarrow _____
 u 2 da ~~2~~ \rightarrow _____
 da 1 u 0 \rightarrow _____
 da 2 u ~~3~~ \rightarrow _____
 da 1 u 5 \rightarrow _____
 da ~~2~~ u ~~4~~ \rightarrow _____

 Risolvi la catena di operazioni.

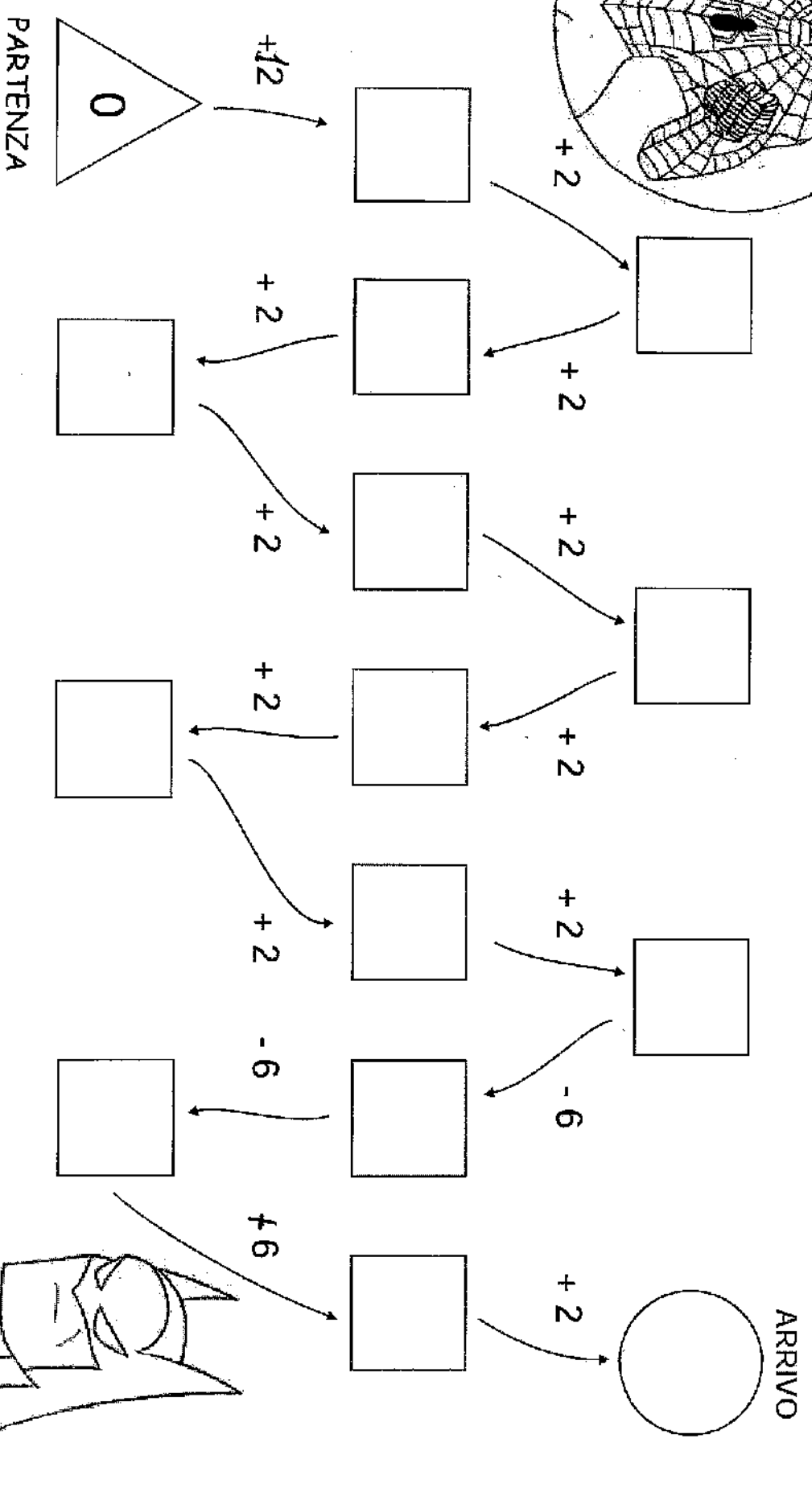


71



Frecce ... mattei!

Raggiungi il traguardo



IL GATTO

COLORA A PIACERE.



LEGGI E COMPLETA SCRIVENDO LE PAROLE ADATTE AL POSTO GIUSTO: **ZAMPE, PELO, CACCIA, ARTIGLI, TOPI, BECCO, BOCCA, PIUME.** BARRA LE PAROLE CHE NON SERVONO.

Sono un gatto. Ho il corpo ricoperto di.....


Cammino sulle quattro..... senza far rumore. Ho la con i denti aguzzi.

Vado a caccia di..... Per prenderli faccio scattare i miei nascosti.

INDOVINA L'ANIMALE. DISEGNALO E COLORA.

- Non ha il becco
- Ha il corpo ricoperto di pelo
- Non vola
- Vive sugli alberi

ORSO




SCOIATTOLO



PIPISTRELLO

MERLO



L'animale che hai indovinato è

DA FARE CON LA MAESTRA


LA DOMANDA GIUSTA

PROBLEMA


1 Leggi il testo e osserva il disegno.

Mirko e Greta raccolgono more nel bosco. Al tramonto decidono di tornare a casa. Ecco le more che hanno raccolto.

MIRKO



GRETA



• Colora il quadratino vicino alla domanda adatta alla situazione, calcola e scrivi la risposta.

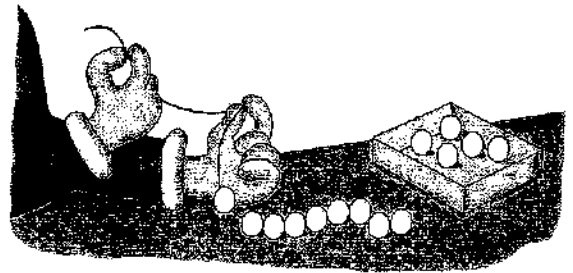
- Quanti funghi hanno raccolto Mirko e Greta?
- Quante ore hanno impiegato a raccogliere le more?
- Quante more hanno raccolto in tutto?
- Quante more sono cadute dal cesto?

OPERAZIONE: =

RISPOSTA:

2 Leggi il testo attentamente.

Clarissa ha 14 perline.
Ne usa 9 per fare un braccialetto.



• Colora il quadratino vicino alla domanda adatta alla situazione, calcola e scrivi la risposta.

- Quante perline sono rimaste?
- Quante perline sono rosse?
- Quante sono in tutto le perline?
- Quanti braccialetti fa Clarissa?

OPERAZIONE: =

RISPOSTA: