


LE ALPI E GLI APPENNINI

* Completa

Le catene montuose che attraversano l'Italia sono le e gli
 La catena delle Alpi si trova a dell'Italia, quella degli Appennini la attraversa da nord a
 Nelle Alpi molte cime superano i 4000 metri di altezza: la vetta piú alta è quella del , che misura
 Negli Appennini la cima piú alta appartiene a un vulcano, l'..... e misura

* Segna con una crocetta se le caratteristiche elencate si riferiscono alle Alpi o agli Appennini.


	ALPI	APPENNINI
CIME ARROTONDATE		
LA CATENA MONTUOSA PIÙ ALTA D'EUROPA		
PRESENZA DI GHIACCIAI PERENNI		
ROCCE FRIABILI E TERRENO FRANOSO		
CIME CHE SUPERANO I 4000 METRI		
PRESENZA DI VULCANI		
GRANDE ABBONDANZA DI ACQUE FLUVIALI		




* Inserisci nei cartellini le seguenti parole.

ALPI ORIENTALI – ALPI CENTRALI – ALPI OCCIDENTALI
 APPENNINO SETTENTRIONALE – APPENNINO CENTRALE – APPENNINO MERIDIONALE

Cima della Argentera 3297 Monviso 3841 Gran Paradiso 4061 M. Bianco 4610 Cervino 4487 M. Rosa 4637 Bemina 4050 Ortles 3889 Marmolada 3443



M. Pisanino 1946 M. Cimone 2165 M. Vettore 2476 Gran Sasso 2914 La Maiella 2795 Pollino 2267 La Sita 1929 Aspromonte 1955 Etna 3340



O.S.A.: conoscere gli elementi fisici del paesaggio italiano;
 conoscere le principali caratteristiche di Alpi e Appennini.