


La linea del tempo può rappresentare anche tempi molto lunghi: i **decenni**, i **secoli**, i **millenni**...


**1** Calcola a quanti anni corrispondono i periodi indicati qui di seguito, poi colora le relative linee del tempo. Fai attenzione alle legende!

- Colora 2 decenni, cioè ..... anni.




= 10 anni

- Colora 5 decenni (o mezzo secolo), cioè ..... anni.




= 10 anni

- Colora 1 secolo, cioè ..... anni.




= 10 anni

- Colora 3 secoli, cioè ..... anni.



= 10 anni

- Colora 1 millennio, cioè ..... secoli.



= 1 secolo