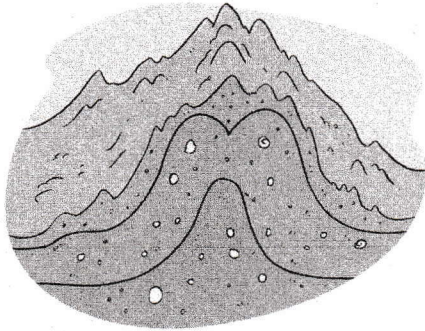
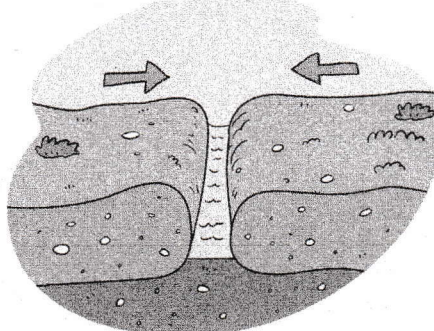


L'origine delle montagne

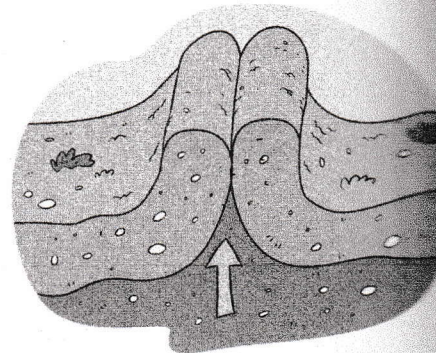
1 Osserva i disegni, poi ordina in successione le fasi della formazione delle montagne.



Sopra gli strati sollevati si depositano diversi materiali.



Gli strati della crosta terrestre si avvicinano.

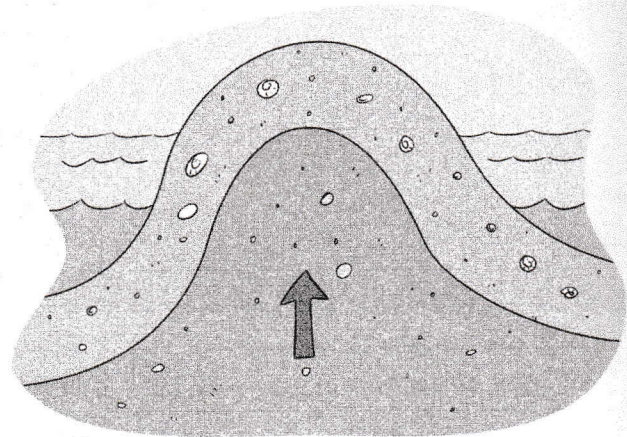


La roccia, a causa della pressione si piega e si solleva.

2 Completa il testo con le parole seguenti:

fossili • fondo • conchiglie

Alcune montagne si sono formate a causa del sollevamento del
marino. Questi rilievi si riconoscono perché tra le rocce si possono trovare
di animali marini e



3 Completa il testo con le parole seguenti:

lava • vulcani • cono

Altri rilievi sono nati dai
La fuoriuscita durante le eruzioni si è solidificata creando rilievi a forma di

